



PROCESSO SELETIVO PARA O CURSO SUPERIOR DE TECNOLOGIA EM GESTÃO PÚBLICA
Parceria SEGPLAN / SUPEG - UEG

Domingo, 11 de agosto de 2013.

Caderno de Prova

Este caderno de prova contém questões de

Prova Objetiva					Redação				
Conhecimentos Gerais		Atualidades			Soma		Dissertação	Soma	
Língua Portuguesa	Matemática	Geografia	História	Sociologia					
Nº de Questões	Nº de Questões	Nº de Questões			Valor de cada Questão	Valor da Prova	Nº de Questões	Valor da Prova	Valor da Prova
8	8	24			1	40	1	60	100

- 1) Verifique se seu nome, seu número de inscrição e do seu documento de identidade estão grafados corretamente, abaixo da linha. Se houver algum erro, comunique ao fiscal de sala, conforme item 59 do Edital do Processo Seletivo para o Curso Superior de Tecnologia em Gestão Pública – parceria SEGPLAN/SUPEG - UEG.
- 2) Verifique ainda se o caderno está completo ou se há alguma imperfeição gráfica que possa gerar ilegibilidade ou dúvidas. Se necessário, peça a substituição deste caderno antes de iniciar a prova.
- 3) Leia cuidadosamente o que está proposto.
- 4) As respostas das questões objetivas deverão ser transcritas (marcadas) no cartão de resposta, com caneta esferográfica de corpo transparente e de tinta preta. O cartão de resposta será o único documento válido para a correção da prova objetiva. Os candidatos que descumprirem este item arcarão com eventual prejuízo da ausência de leitura óptica de suas marcações e/ou de sua eliminação, conforme itens 65, 66 e 67 do Edital.
- 5) Caso queira, o candidato poderá utilizar os espaços de rascunho deste caderno de prova e o rascunho do gabarito para registrar as alternativas escolhidas.
- 6) O candidato, ao terminar as provas, entregará ao fiscal de sala, devidamente destacada, a parte da identificação, o cartão de respostas e o caderno de respostas, conforme item 60 do Edital.
- 7) A partir das 16h10min, os candidatos poderão sair da sala de prova portando este caderno, conforme itens 40, 41 e 56 do Edital.

Observação: Os fiscais não estão autorizados a fornecer informações acerca desta prova.

Identificação do candidato

Rascunho do Gabarito

Questão	Alternativas
1	a b c d
2	a b c d
3	a b c d
4	a b c d
5	a b c d
6	a b c d
7	a b c d
8	a b c d
9	a b c d
10	a b c d
11	a b c d
12	a b c d
13	a b c d
14	a b c d
15	a b c d
16	a b c d
17	a b c d
18	a b c d
19	a b c d
20	a b c d
21	a b c d
22	a b c d
23	a b c d
24	a b c d
25	a b c d
26	a b c d
27	a b c d
28	a b c d
29	a b c d
30	a b c d
31	a b c d
32	a b c d
33	a b c d
34	a b c d
35	a b c d
36	a b c d
37	a b c d
38	a b c d
39	a b c d
40	a b c d

Leia o texto a seguir para responder às questões de 1 a 3.

1 A institucionalização da norma social pressupõe que ela seja aceita por grande quantidade de
2 indivíduos na sociedade, que esses indivíduos não somente a aceitem como também a interiorizem. Por ser
3 sancionada, a norma passa a possuir valores, a estabelecer códigos de conduta. E isso faz parte de um
4 longo processo.

5 As transformações ocorridas no campo de poder coincidem com o debate sobre soberania que
6 marca o início dos tempos modernos, ocorrendo, nesse processo, significativas mudanças, uma vez que,
7 aos laços pessoais organizados em torno da ideia de suserania, substitui-se “uma hierarquia jurídico-
8 administrativa centrada num princípio que anuncia a própria noção moderna da soberania” (CHÂTELET et
9 al, 1985, p. 34). Desse modo, os reis perdem sua autoridade e o povo passa a ter cada vez mais direitos e
10 deveres claramente definidos.

11 Quando o poder se institucionaliza, a relação de poder tende a ser estável, durável. A
12 institucionalização se expressa na normatização do poder e na definição de atribuições e de esferas de
13 competência, implicando a elaboração de Carta Magna, a Constituição. Ela é elaborada e promulgada em
14 nome do povo, pelos representantes da soberania popular, e representa a instância jurídica e política que
15 submete os demais poderes. Essas alterações na ordem política e no campo de poder não foram
16 fenômenos isolados. Simultaneamente processaram-se mudanças na economia e na sociedade, nas quais
17 se destaca o papel da burguesia, confrontada, posteriormente, pelo movimento dos trabalhadores.

CAMPOS, Itami F. *Ciência política: introdução à teoria do Estado*. Goiânia: Vieira, 2005. p. 48. (Adaptado).

Questão 1

Destaca-se, no texto, a seguinte ideia:

- a) para que uma norma social seja instituída, faz-se necessário que ela seja socialmente aceita e internalizada.
- b) modificações no campo de poder e na ordem política constituíram acontecimentos isolados e em diferentes épocas.
- c) as transformações processadas no campo de poder fortaleceram a nobreza em detrimento dos direitos e obrigações do povo.
- d) a norma social, mesmo depois de sancionada, não contém valores nem deve ser interiorizada, razões pelas quais não estabelece códigos de conduta.

Questão 2

No trecho “Ela é elaborada e promulgada em nome do povo” (linhas 13-14), o pronome em destaque refere-se à

- a) institucionalização
- b) normatização
- c) competência
- d) Constituição

Questão 3

No trecho “Por ser sancionada, a norma passa a possuir valores” (linhas 2-3), a palavra sublinhada pode ser substituída, sem prejuízo de sentido, por:

- a) recusada
- b) aprovada
- c) proibida
- d) vetada

Espaço para rascunho

Leia o texto a seguir para responder às questões de 4 a 6.

Outras palavras

1 Odara, drão, platinela, baticum, batararé, ilariê, ho ba la, periba, blésq, plunct, aserejé, avohai,
2 mironga. Algumas das inúmeras palavras criadas na música popular brasileira não possuem qualquer
3 significado aparente e são repetidas exaustivamente pelos ouvintes, repercutem na mídia e nas redes
4 sociais da *internet*. Os casos mais recentes são “Tchubirundu”, do cantor de *reggae* Armandinho, e
5 “Shimbalaiê”, título da canção de Maria Gadú. Não se trata de onomatopeias ou formas reduzidas de
6 palavras e expressões já existentes. É antes uma espécie de idioleto musical, uma ocorrência
7 individualizada de linguagem, um neologismo sem significado necessário. Algo próximo do que Moraes
8 Moreira, Luiz Galvão e Pepeu Gomes definiram, numa canção dos Novos Baianos, como sendo a
9 “linguagem do alunte”:

10 “Palavra nova que dispensa explicação

11 Pra lá, muito pra lá de alucinação

12 Ter que dizer nada”.

13 – Quando componho, os fonemas, os sons e as sílabas vêm natural e intuitivamente. Assim, crio
14 palavras novas. É claro que existe um trabalho mental e lógico para encaixar as palavras e os conteúdos
15 que queremos expressar. Mas as novas expressões também podem traduzir melhor um sentimento –
16 explica Mallu Magalhães.

BRYAN, Guilherme. Outras palavras. *Revista Língua Portuguesa*. Ano 4, n. 55, maio 2010. p. 22-23.

Questão 4

O último parágrafo do texto (linhas 13-16) constitui exemplo de discurso

- a) indireto livre
- b) indireto
- c) direto
- d) misto

Questão 5

Os termos “quando” (linha 13) e “mas” (linha 15) expressam, respectivamente, sentido de

- a) temporalidade e adversidade
- b) adversidade e temporalidade
- c) concessão e condição
- d) condição e concessão

Questão 6

O texto apresenta um caráter eminentemente

- a) metafórico, já que se recorre a uma linguagem conotativa para veicular suas ideias.
- b) metalinguístico, uma vez que se elegem como objeto de discussão elementos da própria língua.
- c) conativo, visto que o foco do texto é o estabelecimento de contato entre os interlocutores.
- d) emotivo, posto que o foco central do texto é a expressão das emoções do autor.

Espaço para rascunho

Leia o fragmento a seguir para responder às questões 7 e 8.

- 1 Certas vezes Quaresma fazia-lhe perguntas, atendia-lhe a conversa, raras não. Anastácio era
2 silencioso e grave. Nada dizia: trabalhava e, de quando em quando, parava, considerava, numa postura
3 hierática de uma pintura mural tebana. O major perguntou ao Felizardo:
4 – Que é que há, Felizardo?
5 O camarada descansou o grosso tronco de camará no monte, limpou o suor com os dedos e
6 respondeu com a sua fala branda e chiante:
7 – Negócio de política... “Seu” Tenente Antonino quase briga ontem com “Seu dotô Campo”.
8 – Onde?
9 – Na estação.
10 – Por quê?
11 – Negócio de partido. Pelo que ouvi: “Seu” Tenente Antonino é pelo “governadô” e “Seu dotô
12 Campo” é pelo “senadô”... Um “sarcerô”, patrão!

LIMA BARRETO, Afonso Henriques de. *Triste fim de Policarpo Quaresma*. 14. ed. São Paulo: Ática, 1995. p. 97.

Questão 7

No texto, as palavras e expressões entre aspas exemplificam uma linguagem

- a) formal
- b) erudita
- c) científica
- d) coloquial

Questão 8

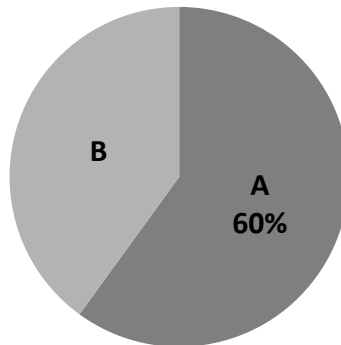
No trecho “Anastácio era silencioso e grave. Nada dizia: trabalhava e, de quando em quando, parava, considerava, numa postura hierática de uma pintura mural tebana” (linhas 1-3), destacam-se elementos

- a) descritivos
- b) persuasivos
- c) dissertativos
- d) argumentativos

Espaço para rascunho

Questão 9

O gráfico de setores abaixo apresenta a preferência de um grupo de consumidores em relação a duas marcas A e B de um determinado produto. Sabendo-se que 360 consumidores preferem a marca A, qual é o número de consumidores desse grupo que prefere a marca B?



- a) 144
- b) 216
- c) 240
- d) 540

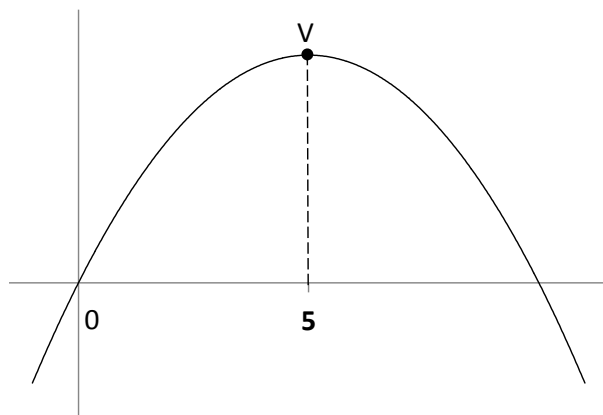
Questão 10

A diagonal de um retângulo de altura 30 cm e comprimento 40 cm é de:

- a) 40 cm
- b) 50 cm
- c) 70 cm
- d) 90 cm

Questão 11

Qual alternativa a seguir representa a função do gráfico abaixo, onde V representa o vértice dessa função?

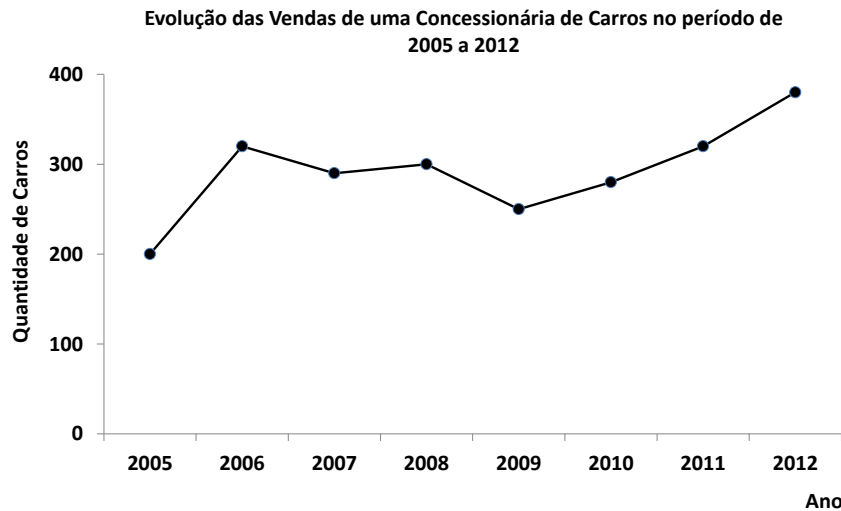


- a) $f(x) = x^2 - 5x$
- b) $f(x) = -x^2 + 5x$
- c) $f(x) = x^2 - 10x$
- d) $f(x) = -x^2 + 10x$

Espaço para rascunho

Questão 12

Observe o gráfico a seguir.



Analisando-se o gráfico, verifica-se que no período de

- 2005 a 2012 só aumentou a quantidade de vendas.
- 2009 a 2012 as vendas só aumentaram.
- 2006 a 2009 as vendas só diminuíram.
- 2007 a 2010 ocorreu a menor quantidade de vendas.

Questão 13

Dados os números $a = \frac{17}{20}$, $b = \frac{6}{7}$, $c = \frac{7}{8}$, constata-se que

- $a < b < c$
- $b < a < c$
- $c < a < b$
- $b < c < a$

Questão 14

Um quadro retangular, com 1,2 m de altura e 1,5 m de comprimento, deverá ser colocado em uma moldura. Sabendo-se que o preço do metro linear da moldura custa R\$ 45,00, o custo total dessa moldura será de:

- R\$ 81,00
- R\$ 121,50
- R\$ 200,00
- R\$ 243,00

Espaço para rascunho

Questão 15

Pedro e João entraram em uma loja de roupas onde camisas e bermudas estavam na promoção. Pedro comprou 2 camisas e 3 bermudas, gastando R\$ 240,00, ao passo que João comprou 2 camisas e 2 bermudas, gastando R\$ 200,00. O preço de cada camisa e de cada bermuda foi, respectivamente,

- a) R\$ 60,00 e R\$ 40,00
- b) R\$ 45,00 e R\$ 50,00
- c) R\$ 40,00 e R\$ 60,00
- d) R\$ 30,00 e R\$ 50,00

Questão 16

Em uma prova de vestibular, um aluno responde a 15 questões de matemática em uma hora. Sabendo-se que ele gasta o mesmo tempo para resolver cada questão, quanto tempo ele gasta para resolver apenas 8 questões de matemática?

- a) 24 minutos
- b) 30 minutos
- c) 32 minutos
- d) 40 minutos

Espaço para rascunho

Questão 17

A análise da malha viária de Goiás e sua respectiva funcionalidade levam a inferir que:

- a) é constituída em sua grande maioria por rodovias federais;
- b) as rodovias estaduais estão presentes ligando o maior número de municípios;
- c) pela rede ferroviária é transportada mais de 60% da produção de grãos do estado;
- d) as hidrovias realizam comercialmente o transporte de cargas e passageiros.

Questão 18

A distância real entre duas cidades de Minas Gerais é de 227 quilômetros. Sabendo-se que essa distância no mapa é de 4 centímetros, conclui-se que a escala do mapa é:

- a) 1: 567.500
- b) 1: 227.000
- c) 1: 2.277.000
- d) 1: 5.675.000

Questão 19

Goiás é um estado brasileiro localizado no centro do país. Em relação à sua posição relativa, ele está:

- a) ao norte do Paraná e a leste de Rondônia.
- b) ao sul do Maranhão e ao norte do Mato Grosso.
- c) a leste de Minas Gerais e a oeste do Espírito Santo.
- d) a leste de Rondônia e a oeste do Mato Grosso do Sul.

Questão 20

A divisão regional oficial do Brasil não reflete as tendências econômicas e demográficas encontradas no território nacional. Visando retratar a realidade brasileira no que se refere aos complexos regionais, tem-se que:

- a) o Complexo da Amazônia possui essa designação pelo fato de ter na mineração a principal característica que o marca na divisão regional no Brasil.
- b) a divisão do Brasil em Complexos Regionais teve como característica fundamental a homogeneidade econômica e demográfica interna.
- c) o Centro-Sul expressa, na divisão regional brasileira, a porção territorial característica de fronteira de recursos tanto naturais quanto demográficos.
- d) a concentração industrial no Sudeste respondeu pela divisão regional do Brasil, que coloca o Nordeste como centro econômico privilegiado industrial e financeiramente.

Questão 21

Entre os problemas ambientais do mundo contemporâneo, destacam-se os relacionados ao meio ambiente urbano, como a produção de resíduos sólidos nas cidades. Entre as técnicas de tratamento desse tipo de resíduo destacam-se:

- a) compostagem, sedimentação, coleta seletiva.
- b) deposição, aterro sanitário, coleta seletiva.
- c) incineração, aterro sanitário, compostagem.
- d) coleta seletiva, compostagem, terraplanagem.

Espaço para rascunho

Questão 22

Verifica-se na média mundial uma queda nos índices de natalidade e mortalidade, embora haja países que ainda apresentam taxas muito elevadas. Essa queda está relacionada aos seguintes fatores:

- acesso a programas de vacinação, legalização do aborto em países emergentes, a exemplo do Brasil, e acesso a métodos anticoncepcionais.
- maior custo para criar os filhos, trabalho feminino extradomiciliar e acesso a assistência médica.
- o êxodo rural, a assistência médica, saneamento básico e programas ambientais.
- maior custo para criar os filhos, acesso a métodos contraceptivos e acesso a assistência educacional profissionalizante.

Questão 23

A integração econômica entre vários países, culminando na formação de blocos econômicos regionais, responde à lógica capitalista imposta mundialmente. Verifica-se que, nesses blocos, os países

- procuram diminuir as barreiras impostas pelas fronteiras nacionais aos fluxos de mercadorias, de capitais, de serviços ou de mão de obra.
- se organizam em diferentes blocos, tais como mercados comuns, associações bilaterais, zonas de livre comércio e uniões econômicas e monetárias.
- integrantes da União Europeia buscam fortalecer-se regionalmente com o objetivo de adotar políticas internas comuns no que se refere ao meio ambiente.
- sul-americanos integrantes do MERCOSUL discutiram em dezembro de 2012 a adesão do Suriname e Equador como membros plenos deste bloco regional.

Questão 24

Na atual etapa informacional do capitalismo, as cidades passam por transformações em função dos avanços tecnológicos que aceleram a produção, a circulação e o consumo. A respeito disso, constata-se que

- as cidades globais, em função da presença de empreendimentos de pequeno porte e de capital local, se inserem em espaços de fluxos internacionais.
- as pequenas cidades, em função do critério demográfico, passaram a integrar redes urbanas nacionais e mundiais.
- a descentralização das indústrias contribui para reforçar o comando regional de cidades pequenas na rede urbana em escala global.
- os avanços tecnológicos têm favorecido a dispersão da produção pelos lugares que oferecem maiores possibilidades de lucros às empresas.

Questão 25

A região do entorno do Distrito Federal sofre uma grande influência direta de Brasília. A capital federal serve de grande atrativo populacional, originando fluxos migratórios que buscam moradias nas divisas do DF. Esse fluxo populacional causou uma rápida fragmentação do espaço, gerando a criação de novos municípios através da divisão de outros. A cidade de Luziânia, é exemplo dessa fragmentação. São municípios que se desmembraram de Luziânia:

- Novo Gama, Valparaíso de Goiás, Alexânia e Abadiânia.
- Santo Antônio do Descoberto, Cidade Ocidental, Novo Gama e Valparaíso de Goiás.
- Águas Lindas, Cidade Ocidental, Cristalina e Cocalzinho de Goiás.
- Planaltina de Goiás, Cocalzinho de Goiás, Cristalina e Valparaíso.

Espaço para rascunho

Questão 26

A atividade agropecuária, em relação às problemáticas ambientais, levanta questões a serem observadas, tais como:

- a) a substituição da vegetação natural por cultura, empobrecendo o ambiente.
- b) o inevitável desenvolvimento de erosões nas áreas agrícolas.
- c) a redução da biodiversidade com a modernização agrícola.
- d) a desertificação como resultado de uma agricultura precária.

Questão 27

No centro-sul do Rio Grande do Sul, sob o predomínio do clima subtropical, desenvolveu-se um tipo de formação vegetal herbácea, constituído sobretudo por gramíneas, que propiciou a atividade pecuária leiteira e de corte. Essa formação vegetal denomina-se:

- a) pampas ou coxilhas
- b) patagônia;
- c) pantanal;
- d) mata de araucária;

Questão 28

É característica do clima do Estado de Goiás

- a) o período chuvoso apresentar temperaturas mais elevadas, enquanto que o período seco, em virtude da ocorrência do inverno no hemisfério Norte apresenta temperaturas amenas.
- b) a existência de duas estações bem definidas, sendo uma seca e outra chuvosa, apresentando índices pluviométricos variando entre 1100 mm a 1700 mm anuais.
- c) apresentar baixa umidade do ar durante o verão como resultado do processo de evapotranspiração resultante da intensa insolação no hemisfério sul.
- d) as menores temperatura do ano ocorrerem durante os meses de junho, julho e agosto, como consequência da atuação das massas de ar seco oriundas da Amazônia.

Questão 29

O potencial energético de um país representa um fator estratégico necessário ao seu desenvolvimento e pode estar diretamente relacionado às condições naturais e socioeconômicas existentes em seu território. Assim, analisando as características do estado de Goiás observa-se que:

- a) a localização de Goiás apresenta alto potencial para a produção de energia solar em decorrência de suas condições naturais favoráveis à insolação suficiente via radiação solar.
- b) a região do baixo Araguaia apresenta condições naturais propícias à instalação de usinas hidrelétricas em virtude da abundancia de recursos hídricos.
- c) a produção de energia elétrica via aproveitamento da biomassa (bagaço de cana) é a mais indicada para o estado, por ser a mais viável economicamente.
- d) o território goiano apresenta condições naturais propícias à instalação de usinas eólicas devido a existência de pontos culminantes para instalação dos equipamentos.

Questão 30

A modernização da agricultura perpassa principalmente pela inserção de novas técnicas e tecnologias no processo produtivo, possibilitando mudanças nas formas de produção, o que pode, inclusive, alterar as estruturas produtivas preexistentes. São características da modernização:

- a) aumento da biodiversidade
- b) redução das áreas agricultáveis
- c) aumento da produção e produtividade
- d) redução no uso de defensivos agrícolas

Questão 31

Estudando a população goiana, não se poderia deixar de mostrar a problemática da imigração europeia. [...] Após a libertação do negro, grupos locais identificados pelo interesse agrário lutaram pela vinda do imigrante europeu.

PALACIN, Luís; MORAES, Maria A. S. *História de Goiás*. Goiânia: Editora da UCG, 1994. p. 65.

No que se refere à contribuição da imigração estrangeira para a formação demográfica e sócio econômica de Goiás, percebe-se que

- a imigração em larga escala de portugueses, no período imperial, serviu para substituir os negros escravos das fazendas de café do centro-norte goiano.
- a imigração sírio-libanesa foi significativa em Goiás, contribuindo para a atividade comercial em várias cidades, principalmente em Anápolis.
- o preconceito racial contra os orientais, vigente no período republicano, impediu a vinda de japoneses e chineses para Goiás.
- os imigrantes alemães fundaram, na década de 1920, a colônia de Uvá, que se tornou um importante pólo de produção hortifrutigranjeira em Goiás.

Questão 32

A ocupação econômica do estado de Goiás delineada por uma atividade calcada na agricultura e pecuária resulta em uma forte pressão sobre o meio ambiente, gerando uma série de impactos ambientais nas diversas regiões do estado. Parte desses impactos podem ser observados na forma de

- redução da biodiversidade local decorrente da inserção de espécies exóticas que sustentam as bases das monoculturas voltadas para a exportação.
- desertificação acelerada com alterações climáticas e consequente aumento da temperatura no extremo norte goiano.
- redução da vazão dos rios em virtude da intensificação da atividade de irrigação por pivot no nordeste goiano.
- arenização avançada dos solos com perda da capacidade produtiva em decorrência do desenvolvimento da agricultura mecanizada na região sudeste de Goiás.

Questão 33

“Brasília – A Comissão dos Direitos Humanos entrega hoje à Organização das Nações Unidas um relatório denunciando violações dos direitos econômicos, sociais e culturais no Brasil, principalmente a falta de acesso dos negros ao mercado de trabalho. Na década de 1990, enquanto 22% dos negros estavam sem trabalho, um percentual de 16% dos brancos estavam na mesma situação”.

O ESTADO DE SÃO PAULO, 26 abr. 2000. In Teixeira, F. M. P. *Brasil História e Sociedade*. SP, Ática, 2000. p. 324. (Adaptado)

A falta de acesso por parte dos negros ao mercado de trabalho, no final do século XX e início do XXI, tem ligação com

- a política de distribuição de terras para as famílias carentes, iniciada a partir da década de 1990, o que impeliu grande parte da população negra para a zona rural, havendo, com isso, redução de suas oportunidades educacionais.
- o fato de boa parcela dos negros ser oriunda das classes menos abastadas economicamente e com menor qualificação profissional, sendo este um dos fatores que levam ao maior índice de desemprego e desigualdade percentual entre salários de negros e brancos.
- o processo de incorporação das mulheres ao mercado de trabalho, que é uma das características da década de 1990, ocorrência que reduziu as vagas de trabalho dos homens negros, que a partir disso se voltaram para o trabalho informal.
- o elevado índice de jovens negros que, por motivos etnoculturais, se dedicam a atividades informais, como a capoeira, o futebol e o samba, com isso se voltando menos para a consolidação de carreiras profissionais em outras áreas.

Questão 34

Observe a tabela a seguir:

Os 10 maiores PIB do mundo (2012)

Posição no Ranking	País	PIB (em trilhões de dólares)
1º	Estados Unidos	15,49
2º	China	7,74
3º	Japão	6,12
4º	Alemanha	3,70
5º	França	2,88
6º	Brasil	2,61
7º	Reino Unido	2,60
8º	Itália	2,28
10º	Índia	2,01

Fonte: top10mais.org/top-10-paises-mais-ricos-do-mundo-2012-2. Acesso em: 7 ago. 2013.

A tabela mostra os 10 países de maior Produto Interno Bruto, em 2012. Nesse sentido, os dois países do *ranking* que tiveram o seu desenvolvimento econômico impulsionado graças à ajuda norte-americana, no pós Segunda Guerra Mundial, foram

- Reino Unido e França, que captaram recursos por causa de suas adesões ao pacto do Tratado do Atlântico Norte (OTAN).
- Índia e Rússia, que receberam recursos econômicos por terem apoiado os Aliados na luta contra o Eixo.
- Alemanha e Japão, que respectivamente receberam recursos provenientes dos planos Marshall e Dodge.
- Brasil e China, que permitiram os Estados Unidos instalarem bases militares em seu território durante a guerra.

Questão 35

A produção cultural sofreu diversas alterações a partir do desenvolvimento tecnológico, dos meios de comunicação e do capitalismo. É nesse contexto que emergiu a teoria da “indústria cultural”, a qual defende a ideia de que

- a cultura foi atingida pelas novas tecnologias de comunicação a partir da declaração da Segunda Guerra Mundial, pois tal conflito bélico teria forçado o desenvolvimento tecnológico dos meios de comunicação, inclusive o computador.
- a partir dos anos 1980 surgiu uma indústria de produção de cultura que realizou uma mercantilização da arte e de outros produtos culturais, gerando novos aparelhos e mídias, como o DVD e o CD, entre outros.
- a cultura, a partir dos anos 1920, com a invenção do rádio, telefone e televisão, se torna cada vez mais financiada pela grande indústria e controlada por esta, devido ao valor elevado dos meios de comunicação.
- a partir do pós-Segunda Guerra Mundial, emergiu uma indústria cultural que transforma a cultura e a arte em mercadoria, submetendo-as a um processo de estandarização e perda de sua qualidade estético-artística.

Espaço para rascunho

Questão 36

Considerando-se os impactos sociais das novas tecnologias no sistema socioeconômico que emergiu com o capitalismo, verifica-se que

- o carvão vegetal serviu como fonte de energia para movimentar as máquinas a vapor da Primeira Revolução Industrial, acarretando um intenso desmatamento na Inglaterra.
- a demanda crescente por petróleo possibilitou que países do Oriente Médio utilizassem essa fonte de energia como arma política, na crise de 1973.
- a utilização da eletricidade na produção, a partir da segunda metade do século XIX, deveu-se à pressão da sociedade por uma fonte de energia limpa e renovável.
- o carvão mineral foi a fonte de energia básica da Segunda Revolução Industrial, o que explica a industrialização de países com fartas minas carboníferas, como Japão e EUA.

Questão 37

“Por que pagar mais caro se o Vila me dá tudo aquilo de um bom cigarro? Gosto de levar vantagem em tudo, certo? Leve vantagem você também, leve Vila Rica!”

Disponível em: <http://www.infoescola.com/curiosidades/lei-de-gerson/>. Acesso em: 13 dez. 2012.

A frase citada, integrante do comercial de cigarros Vila Rica, originou a chamada Lei de Gérson, segundo a qual o brasileiro quer levar vantagem em tudo, não respeitando os códigos morais. Considerando-se a sociologia de Max Weber, essa suposta atitude dos brasileiros seria compatível com a ideia de

- comportamento afetivo, uma vez que o jeitinho brasileiro é utilizado somente no ambiente familiar e religioso.
- ética da convicção, uma vez que o jeitinho brasileiro é consequência da observância dos preceitos do catolicismo popular.
- comportamento tradicional, uma vez que o jeitinho brasileiro está fortemente arraigado na tradição cultural nacional.
- ética da responsabilidade, uma vez que o jeitinho brasileiro está legitimado nas regras jurídicas em vigência atualmente no país.

Questão 38

“Em 8 de março de 1857 a cidade de Nova York é palco da primeira greve de mulheres operárias de que se tem conhecimento. Cento e vinte e nove tecelãs pararam seu trabalho exigindo redução da jornada de trabalho, então de catorze horas, melhores condições no local de trabalho e salários maiores”.

TRINDADE, J. D. L. *História Social dos Direitos Humanos*. São Paulo: Petrópolis, 2002, p. 144.


O texto citado aborda uma manifestação das mulheres norte-americanas em busca de mais direitos sociais. Ações em prol dessas conquistas também se fizeram notar em outras regiões do continente americano. Na América do Sul, essa busca de inserção social por parte das mulheres teve entre seus momentos marcantes

- a atuação pioneira do Estado Novo varguista, que no Brasil e na América do Sul passou a apoiar o movimento feminista como parte da sua estratégia política de romper com o patriarcalismo católico.
- a resistência das mulheres da América do Sul contra a opressão do regime militar, como foi o caso das chamadas “Mães da Praça de Maio”, que na Argentina protestaram contra o desaparecimento de presos políticos.
- o desinteresse dos movimentos feministas sul-americanos em mobilizar as mulheres para melhoria das condições de trabalho, já que na maioria dos países da região os sindicatos são majoritariamente controlados pelos homens.
- o ofuscamento das lutas sociais das mulheres sul-americanas nos livros de história atuais, o que reflete o predomínio de um viés pós-moderno nas ciências humanas, notadamente na Antropologia e na História.

Espaço para rascunho

Questão 39

Observe a charge.



Disponível em: <http://pessoascomuns.blogspot.com.br/2012_11_01_archive.html>. Acesso em: 13 dez. 2012.

Utilizando-se alguns pressupostos da sociologia de Durkheim, verifica-se que a charge

- demonstra a presença do egoísmo social, já que os interesses individuais e familiares se tornaram mais importantes do que o prestígio de alguns grupos profissionais.
- retrata uma desestruturação dos valores, por causa da intensa anomia social que marcou a sociedade brasileira dos últimos 40 anos.
- postula a fraqueza da divisão do trabalho na sociedade brasileira, indicando que a regência escolar é “coisa de mulher”.
- indica o aumento da solidariedade social e dos laços comunitários, já que os pais estão mais próximos dos seus filhos.

Questão 40

Leia a letra da música a seguir.

Hino dos cafajestes (Ultraje a rigor)

Nós, os cafajestes do Brasil
temos como missão cafajestar
queremos nossas esposas pra chifrar
e o povo pra enganar

Filhos nos quatro cantos do Brasil
pensões que nós deixamos de pagar
contamos com o respaldo popular
em qualquer lugar

Canalhas!
em qualquer posto dessa nossa sociedade
os cafajestes do Brasil
podem viver com toda liberdade.

Disponível em: <www.vagalume.com.br/ultraje-a-rigor/hino-dos-cafajestes.html>. Acesso em: 13 dez. 2012.

Fazendo uma interpretação sociológica da música citada, verifica-se que os valores expressos pelos “cafajestes” são coerentes com um modelo de sociedade

- hedonista, em que os comportamentos de todos os indivíduos estão voltados para a obtenção do prazer.
- judaico-cristã, na qual a função do homem é garantir os preceitos bíblicos de perpetuação da espécie.
- patriarcal, na qual as mulheres estão em uma situação de inferioridade social diante dos homens.
- anarquista, em que o indivíduo está livre de responder às regras morais e às normas jurídicas vigentes.

Em todas as Sociedades, a figura da mulher esteve submetida a um julgamento machista, e a cultura do estupro como a sua mais perversa herança. A esse respeito, leia a coletânea de textos a seguir.

Texto 1

Protesto, que aconteceu em SP, Rio, Brasília e em outras cidades, quer alertar contra o preconceito de culpar a vítima pelo abuso sexual

Mais de mil mulheres foram às ruas no Rio de Janeiro e em São Paulo nesse sábado para protestar contra a violência sexual e contra o preconceito de culpar a vítima pelo abuso sexual. A segunda edição da Marcha das Vadias também aconteceu em outras cidades: Brasília, Belo Horizonte, Vitória, São Carlos (SP) e Sorocaba (SP). A manifestação tem origem no “Slut Walk”, um protesto mundial que começou após um policial, no Canadá, dizer que, para evitar estupros, as mulheres deveriam deixar de “vestir como vadias”.

AGÊNCIA BRASIL. Protesto, que aconteceu em SP, Rio, Brasília e em outras cidades, quer alertar contra o preconceito de culpar a vítima pelo abuso sexual.

Disponível em: <<http://ultimosegundo.ig.com.br/brasil/2012-05-26/mulheres-tiram-a-roupa-na-marcha-das-vadias-em-protesto-contra-v.html>>.

Acesso em: 21 jun. 2013.

Texto 2

Turista americana é vítima de estupro coletivo na Índia

A polícia da Índia informou ontem que uma turista americana sofreu um estupro coletivo na noite de segunda na cidade Manali, no estado de Himachal Pradesh, no norte da Índia. A região dá acesso às montanhas do Himalaia, que é um dos principais destinos turísticos indianos. De acordo com as informações do chefe de polícia local, Kamal Kumar, a mulher de cerca de 30 anos foi estuprada na boleia de um caminhão por três homens que lhe deram carona em uma estrada da região. Ela voltava de uma caminhada na montanha para a casa onde estava hospedada.

AGÊNCIAS. Turista americana é vítima de estupro coletivo na Índia. Disponível em: <<http://www.agora.uol.com.br/mundo/2013/06/1289965-turista-americana-e-vitima-de-estupro-coletivo-na-india.shtml>>.

Acesso em: 20 jun. 2013.

Texto 3

Nicole Bahls, Gerald Thomas e a cultura do estupro

Cada pessoa tem um talento. Alguns são bons de papo, outros são gênios da física, outros cozinham como ninguém e algumas pessoas nasceram com facilidade de ter corpos que podem ser modificados facilmente com malhação. Cada um usa seu talento como quer e nada disso é um convite. Não é porque você está morrendo de vontade de comer um doce que o dono da padaria tem que te dar um pedaço de bolo, certo? E você também não pode entrar e passar o dedo na cobertura. Todo mundo conhece e entende esse tipo de regra. E, então, por que com mulheres as coisas são diferentes? Isso é chamado de cultura do estupro. O estupro não é apenas o sexo com penetração feito a força. E a cultura em que vivemos não condena atos como o de Gerald Thomas. E isso é errado. O que nós fazemos, ao dizer que a panicat pediu por aquilo, mereceu ou até que ela gostou, é dizer, nas entrelinhas, que estupro e abuso sexual são coisas normais.

PATROCÍNIO, Carol. Nicole Bahls, Gerald Thomas e a cultura do estupro. Disponível em: <<http://br.mulher.yahoo.com/blogs/preliminares/nicole-bahls-gerald-thomas-e-cultura-estupro-094948374.html>>.

Acesso em: 18 jun. 2013. (Adaptado)

Texto 4

A cultura do estupro gritando – e ninguém ouve

Como a essa altura vocês já devem saber, Gerald Thomas tentou colocar a mão por dentro do vestido da Nicole Bahls durante um evento no Rio. Sempre rolam os xingamentos à mulher, claro. São os usuais: que ela estava pedindo, que ela estava gostando, que o trabalho dela é esse mesmo, que a roupa era justa. Vocês estão cansados de saber quais as justificativas injustificáveis para o assédio e a agressão sexual. Nicole faz sucesso porque tem um corpão, segundo os padrões de beleza atuais. Ela aparece de biquíni na televisão, tira fotos sensuais, usa roupas curtas e provocantes. Como ela “provocou” (apenas sendo quem ela é), ela merece ser apalpada por um estranho. Porém, não existe isso de “provocar”. Gerald Thomas não é um animal irracional. Ele – e eu e você – deve esperar o consentimento do outro para poder tocar em seu corpo.

LAPA, Nádia. A cultura do estupro gritando – e ninguém ouve. Disponível em: <www.cartacapital.com.br/sociedade/a-cultura-do-estupro-gritando-e-ninguem-ouve>.

Acesso em: 18 jun. 2013. (Adaptado)

Texto 5

A disseminação da cultura do estupro

Ao observar algumas mulheres de biquíni caminhando na praia, um grupo de amigos se questiona: “já pensou se a gente fosse invisível?”. A suposição vira realidade e os homens (agora invisíveis e apenas notáveis como latinhas flutuantes) se aproveitam da situação para abusar das mulheres na praia e invadir o banheiro feminino. Essa propaganda vem sendo veiculada na TV, há alguns meses, pela Nova Schin. É tratando dessa camuflagem de normalidade por cima desse crime sexual, que existe o termo “cultura do estupro”, que é, basicamente, um conjunto de crenças e máximas (absurdas) que minimizam a importância da violência contra a mulher. Quem nunca ouviu a frase “com essa roupa ela está pedindo para ser estuprada”?

Di Lorenzo, Gustavo. A disseminação da cultura do estupro. Disponível em: <<http://comunicadores.info/2012/08/17/a-disseminacao-da-cultura-do-estupro/>>. Acesso em: 18 jun. 2013. (Adaptado)

Proposta de redação: O pensamento machista criou, por meio de situações abusivas camufladas de brincadeira e normalidade, a cultura do estupro. Em consonância com essa afirmação, a prova de Redação do Processo Seletivo para o Curso Superior de Tecnologia de Gestão Pública – Parceria SEGPLAN/SUPEG – UEG – sugere ao candidato que escolha um dos gêneros propostos, posicionando-se diante do seguinte questionamento em forma de tema:

Você acredita que a cultura do estupro seja produto da banalização da imagem da mulher?

DISSERTAÇÃO

O artigo de opinião é um gênero textual no qual são apresentados argumentos para convencer os leitores a respeito da validade de um ponto de vista sobre determinado assunto.

Imagine-se na posição de um articulista de uma revista ou de um jornal de circulação nacional que esteja abordando a questão-tema e redija um texto argumentativo do gênero artigo de opinião, no qual responda ao questionamento sugerido pelo tema.

NARRAÇÃO

O **conto** é um gênero literário breve, com núcleo dramático único, centrado em um episódio da vida de um ou mais personagens.

Escreva um texto do tipo narrativo, do gênero conto, em 1ª ou 3ª pessoa, com base na seguinte situação: uma mulher sofre um determinado abuso relacionado à cultura do estupro. Após o evento, ela resolve mobilizar a sociedade local. Assim, narre que evento foi esse, bem como as iniciativas, propostas e resultados alcançados pela mulher.

CARTA ARGUMENTATIVA

A **carta de leitor** é um gênero textual, comumente argumentativo, que circula em jornais e revistas e tem como objetivo emitir um parecer de leitor sobre matérias e opiniões diversas publicadas nesses meios de comunicação.

Imagine-se na condição de um leitor, homem ou mulher, e escreva uma carta a uma revista de circulação nacional, emitindo seu ponto de vista – contrário, favorável ou outro que transcenda esses posicionamentos – a respeito do acontecimento exposto nos textos 3 e 4 da coletânea.

Observação: Ao concluir sua carta, **NÃO** a assine; subscreva-a com a expressão **UM (A) LEITOR (A)**.

-
- 1
 - 2
 - 3
 - 4
 - 5
 - 6
 - 7
 - 8
 - 9
 - 10
 - 11
 - 12
 - 13
 - 14
 - 15
 - 16
 - 17
 - 18
 - 19
 - 20
 - 21
 - 22
 - 23
 - 24
 - 25
 - 26
 - 27
 - 28
 - 29
 - 30